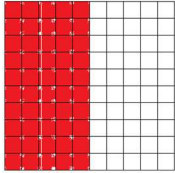


Procenten - "Ik kan procenten en breuken vergelijken."

Voorbeeld




50 van de 100 ("50 op de 100") hokjes zijn gekleurd.

$50/100$ deel is gekleurd

$$50/100 = 5/10 = 1/2$$

Opgave 1




___ van de 100 ("___ op de 100") hokjes zijn gekleurd.

___/100 deel is gekleurd

Vereenvoudig de breuk: ___/100 = ___ / ___

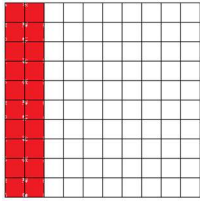
Opgave 2



___/100 deel is gekleurd

Vereenvoudig de breuk:

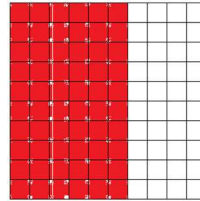
Opgave 3



___ /100 deel is gekleurd

Vereenvoudig de breuk:

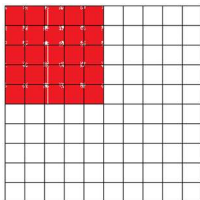
Opgave 4



___ /100 deel is gekleurd

Vereenvoudig de breuk:


Opgave 5



___ /100 deel is gekleurd

Vereenvoudig de breuk:


Opgave 6



___ /100 deel is gekleurd

Vereenvoudig de breuk:

Opgave 7




___ /100 deel is gekleurd

Vereenvoudig de breuk:

Antwoorden

Opgave 1




10 van de 100 ("**10** op de 100") hokjes zijn gekleurd.

10 /100 deel is gekleurd

Vereenvoudig de breuk: **10** /100 = **1** / **10**

Opgave 2

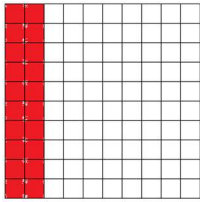


80 /100 deel is gekleurd

Vereenvoudig de breuk: **80**/100

Antwoorden

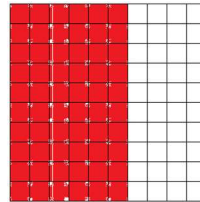
Opgave 3



20 /100 deel is gekleurd

Vereenvoudig de breuk: $\frac{1}{5}$

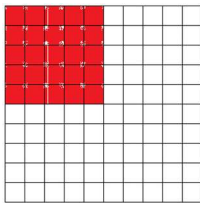
Opgave 4



60 /100 deel is gekleurd

Vereenvoudig de breuk: $\frac{3}{5}$

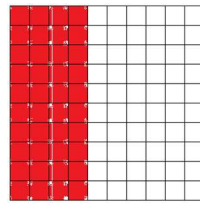
Opgave 5



25 /100 deel is gekleurd

Vereenvoudig de breuk: $\frac{1}{4}$


Opgave 6



40 /100 deel is gekleurd

Vereenvoudig de breuk: $\frac{2}{5}$

Opgave 7



100 /100 deel is gekleurd

Vereenvoudig de breuk: 1